

Ejercicios

Calcula el perímetro y el área de las siguientes figuras planas.

- ① Un rectángulo de dimensiones 7 metros y 9 metros.
- ② Un cuadrado de 23 metros de lado.
- ③ Un paralelogramo de dimensiones 13 metros y 8 metros y altura 6 metros.
- ④ Un rombo de 29 metros de lado cuyas diagonales miden 40 m y 42 m.
- ⑤ Un trapecio cuyos lados paralelos miden 34 metros y 20 metros, sus otros dos lados miden 15 metros y 13 metros y la altura mide 12 metros.
- ⑥ Un triángulo isósceles con dos lados de 37 metros, un lado de 24 metros y la altura que corresponde al lado menor mide 35 metros.

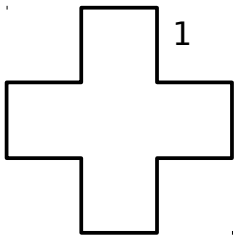
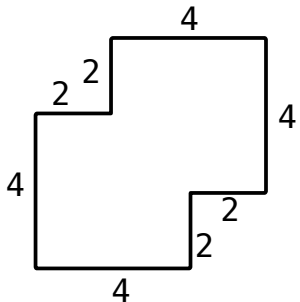
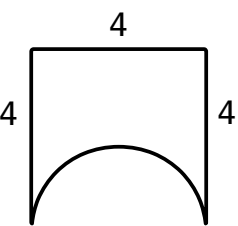
Ejercicios

Calcula el perímetro y el área de las siguientes figuras planas.

- ⑦ Un triángulo rectángulo cuyos lados miden 39 m, 80 m y 89 m.
- ⑧ Un polígono regular de diez lados cuyo lado mide 10 metros y su apotema mide 15,4 metros.
- ⑨ Una circunferencia de 20 metros de radio y el círculo que encierra.

Problemas

Calcula el perímetro y el área de las siguientes figuras planas. Todas las medidas están en metros.

<p>⑩</p> 	<p>⑪</p> 	<p>⑫</p> 
--	--	--