


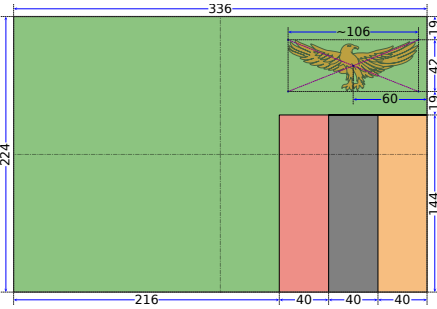
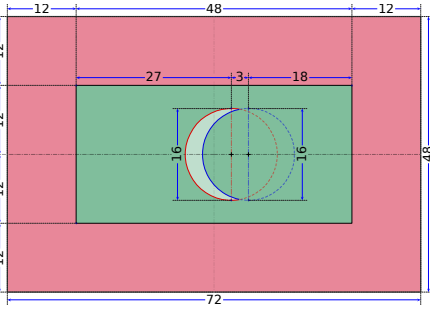
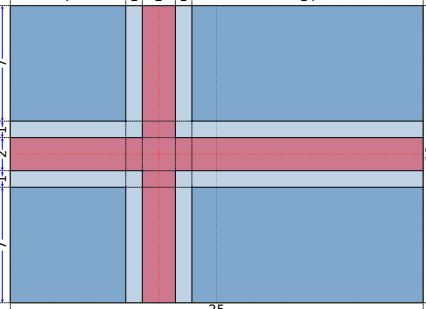



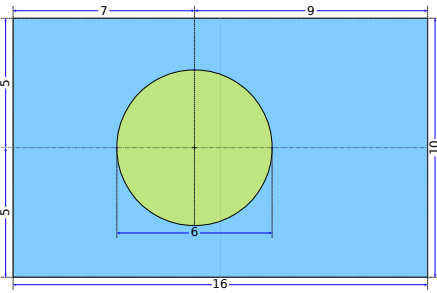
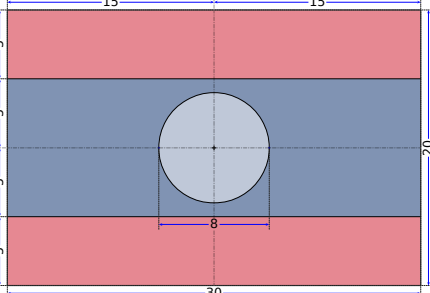
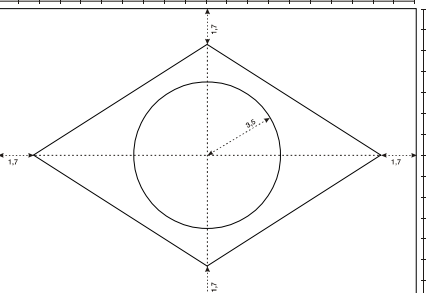


### Vexilología

Es el estudio de las banderas. En la descripción de cada bandera aparecen definiciones de colores y el modo de determinar las dimensiones de cada parte. En los siguientes enunciados verás la bandera de un país y un esquema de sus dimensiones relativas (las banderas se pueden reproducir a cualquier tamaño).

### Enunciados

Calcula con cuatro cifras significativas el porcentaje del color especificado respecto al área total de la bandera.

<p>① Zambia</p>	<p>② Maldivas</p>	<p>③ Islandia</p>
		
		
<p>Color rojo</p>	<p>Color rojo</p>	<p>Color rojo</p>
<p>④ Palau</p>	<p>⑤ Laos</p>	<p>⑥ Brasil</p>
		
		
<p>Color azul claro</p>	<p>Color azul oscuro</p>	<p>Color amarillo</p>

## Soluciones

- ① 7,653 %
- ② 66,67 %
- ③ 24,22 %
- ④ 82,33 %
- ⑤ 41,62 %
- ⑥ 17,68 %