

Enunciados

Representa con un polígono de frecuencias las siguientes tablas de frecuencias absolutas. Ajusta cada gráfica al espacio asignado.

①								
Valor	0	1	2	3	4	5	6	7
Frecuencia	4	2	7	3	9	5	6	1

②								
Valor	0	1	2	3	4	5	6	7
Frecuencia	9	1	5	7	7	2	8	3

③								
Valor	0	1	2	3	4	5	6	7
Frecuencia	12	7	15	8	3	10	4	11

④								
Valor	0	1	2	3	4	5	6	7
Frecuencia	8	7	12	9	5	14	10	15

Respuestas

①								

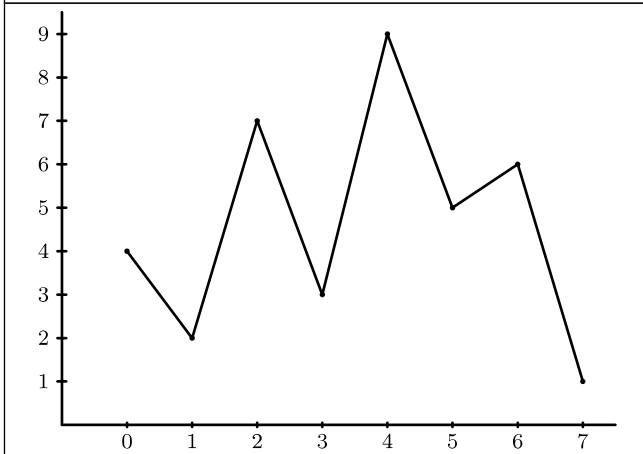
②								

③								

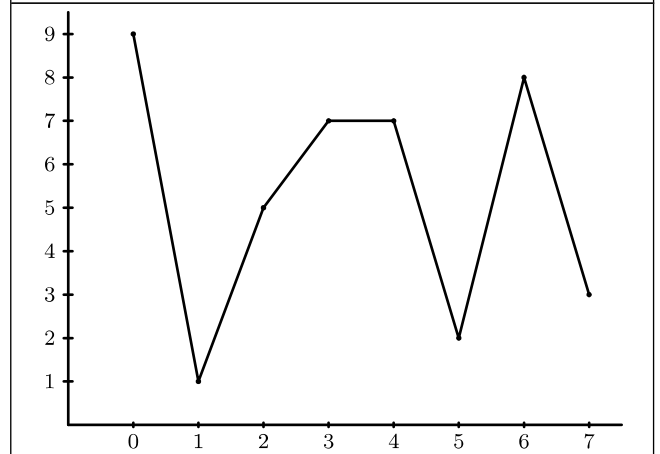
④								

Soluciones

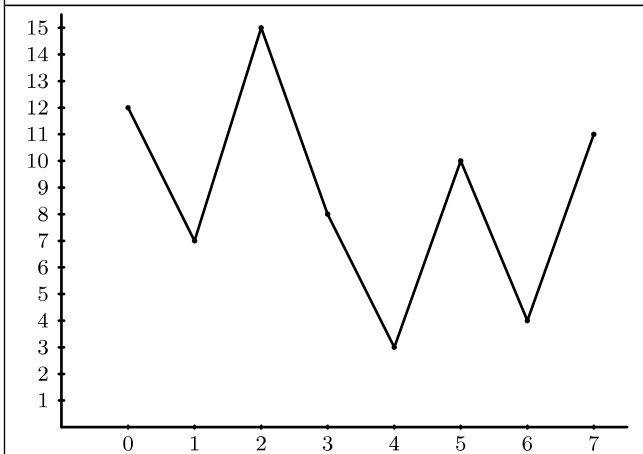
①



②



③



④

