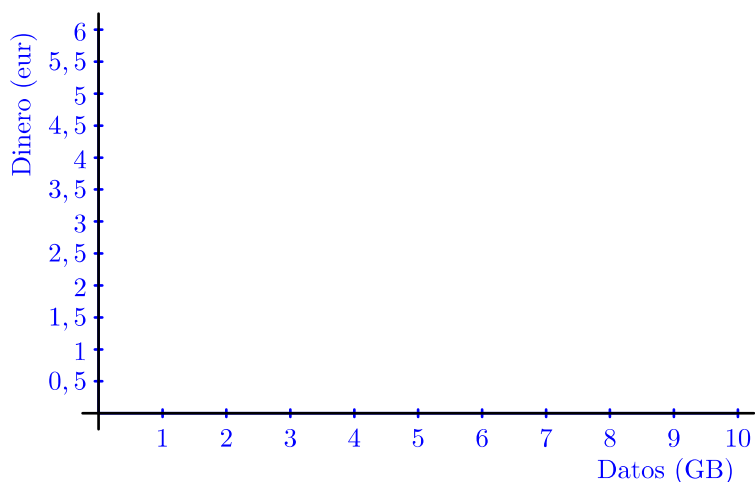


Enunciados

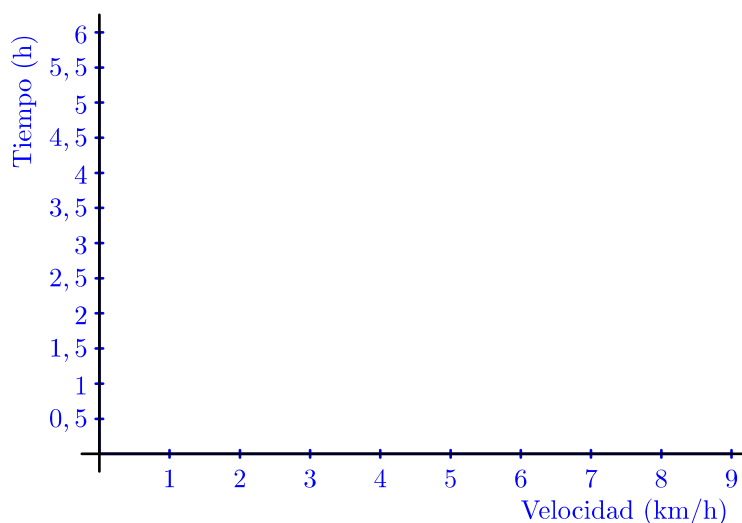
- ① Una compañía de telecomunicaciones vende tarjetas de acceso a internet, con un coste fijo por tarjeta de 1 euro más 0,5 euros por cada gigabyte de datos. Rellena la siguiente tabla de valores y represéntala gráficamente.

Magnitud	Unidad	Valores									
Datos	GB	1	2	3	4	5	6	7	8	9	10
Dinero	eur										



- ② Una persona se desplaza habitualmente de un pueblo a otro. Si lo hace con una velocidad media de 6 km/h, tarda 3 horas en hacer el recorrido. Rellena la siguiente tabla de valores y represéntala gráficamente.

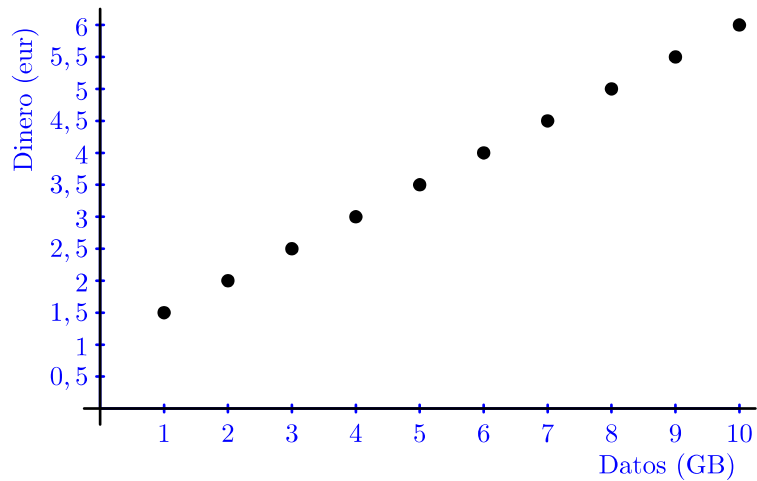
Magnitud	Unidad	Valores			
Velocidad	km/h	3	4	6	9
Tiempo	h				



Soluciones

①

Magnitud	Unidad	Valores									
Datos	GB	1	2	3	4	5	6	7	8	9	10
Dinero	eur	1,5	2	2,5	3	3,5	4	4,5	5	5,5	6



②

Magnitud	Unidad	Valores			
Velocidad	km/h	3	4	6	9
Tiempo	h	6	4,5	3	2

